

1. Foi feita uma pesquisa com várias crianças para saber a preferência de cada uma sobre os Contos de Fadas. Veja o resultado da pesquisa:


Contos preferidos	Crianças
João e Maria	10
Branca de Neve	7
Alice no país das Maravilhas	3
Os Três Porquinhos	6
A Pequena Sereia	5

a) De qual Conto de Fadas as crianças :


➤ Mais gostam ? \_\_\_\_\_.

➤ Menos gostam ? \_\_\_\_\_.

b) Qual é a diferença entre o número de crianças que preferem Os Três Porquinhos, e os que preferem Alice no país das Maravilhas ? \_\_\_\_\_.



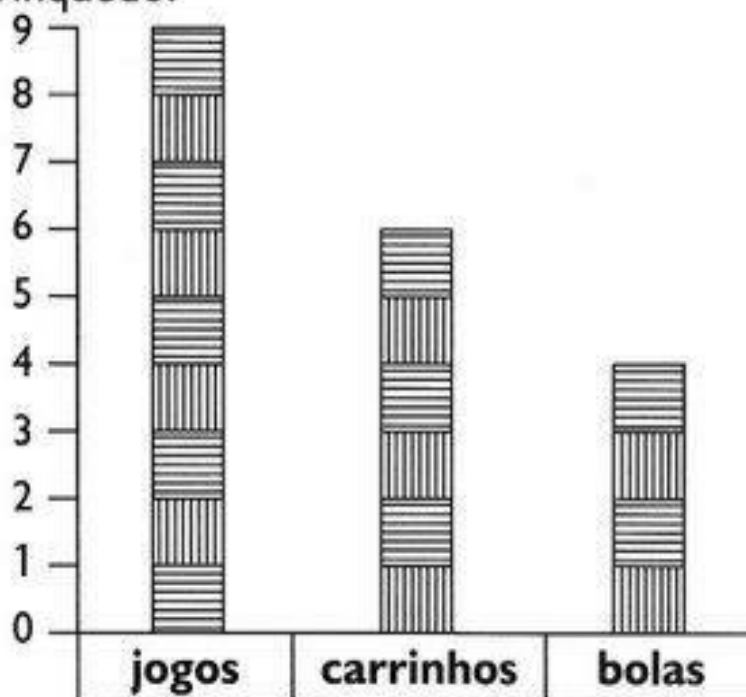
c) Quantas crianças juntas preferem João e Maria, Alice no país das Maravilhas e A Pequena Sereia ? \_\_\_\_\_.





## BRINCANDO COM GRÁFICO

- 1) Observe o gráfico de brinquedos de Artur. Cada barra corresponde a um brinquedo.



- 2) Agora, responda:

- Quantas bolas Artur tem? \_\_\_\_\_
- Quantos carrinhos? \_\_\_\_\_
- Quantos jogos? \_\_\_\_\_
- Quantos jogos Artur tem a mais que bolas? \_\_\_\_\_
- Quantos carrinhos faltam para Artur ficar com a mesma quantidade que tem de jogos? \_\_\_\_\_

- 3) Marque a resposta certa. Para agrupar uma dezena de brinquedos de Artur, é só adicionar:

- jogos e bolas.  
 carrinhos e bolas.  
 carrinhos e jogos.