


Questão 1 – Complete a sequência numérica de 1 até 100, escrevendo em ordem crescente.

SEQUÊNCIA NUMÉRICA

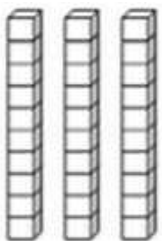
1				5					10
11			14						20
21							27		30
31	32								40
41						46			50
51		53						58	60
61								69	70
71			74						80
81						86			90
91		93							100



Questão 2 – De acordo com a tabela, responda:

a) Marque um X na alternativa que representa o número 100 no Material Dourado.


I)



II)



III)



b) Risque de amarelo os números ímpares da sequência e de azul os números pares.

c) Qual é o maior número ímpar? _____

d) Qual é o menor número par? _____