

1- Continue escrevendo os numerais por extenso.

1 UM

U	
---	--

2 DOIS

D			
---	--	--	--

3 TRÊS

T			
---	--	--	--

4 QUATRO

Q					
---	--	--	--	--	--

5 CINCO

C					
---	--	--	--	--	--

6 SEIS

S				
---	--	--	--	--

7 SETE


S				
---	--	--	--	--

8 OITO


O				
---	--	--	--	--

9 NOVE

N				
---	--	--	--	--




FRANJINHA FEZ 5 BOLHAS DE SABÃO GRANDES E 5 PEQUENAS.
QUANTAS BOLHAS ELE FEZ NO TOTAL?



$$\underline{\hspace{2cm}} + \underline{\hspace{2cm}} = \underline{\hspace{2cm}}$$

NO JOGO DE XADREZ 'CEBOLINHA' FEZ 2 PONTOS E 'CASCÃO' FEZ 8.
QUANTOS PONTOS ELES FIZERAM JUNTOS?




$$\underline{\hspace{2cm}} + \underline{\hspace{2cm}} = \underline{\hspace{2cm}}$$

CHICO BENTO SAIU PARA PÉSCARIA . NO RIO TINHA 2 PEIXES E ELE
PESCOU 1. QUANTOS PEIXES TEM AO TODO?



$$\underline{\hspace{2cm}} + \underline{\hspace{2cm}} = \underline{\hspace{2cm}}$$

A TURMINHA ESTÁ JOGANDO CARTAS. AS MENINAS FIZERAM 9
PONTOS E OS MENINOS 3 . QUANTOS PONTOS ELES FIZERAM NO
TOTAL?



$$\underline{\hspace{2cm}} + \underline{\hspace{2cm}} = \underline{\hspace{2cm}}$$

Havia no galho



4

-

Voaram




2

=

Quantos
passarinhos
sobraram no
galho?

.....

Havia




10 ovos

10

-

Foram usados




5

=

Quantos
ovos
sobraram?

.....

Havia



5

-

Saiu da roda



1

=

Quantas
crianças
ficaram
na roda?

.....

1-Ligue cada numeral ao seu nome.

3

OITO

2

TRÊS

6

DOIS

8

CINCO

4

UM

5

NOVE

7

SEIS

9

SETE

1

QUATRO



Escreva os numerais por extenso.

1 _____

2 _____

3 _____

4 _____

5 _____

6 _____

7 _____

8 _____

9 _____

10 _____

