


1) Observe a imagem. Cada porta-lápis tem 5 lápis. Quantos lápis tem no total?

ADIÇÃO  +  +  =

MULTIPLICAÇÃO  x  =

TOTAL DE LÁPIS



2) Ligue as operações aos seus respectivos resultados.

**3x4.** **.40**


**2x7.** **.50**

**5x8.** **.12**

**6x6.** **.14**

**10x5.** **.24**

**4x6.** **.36**



3) Complete as seqüências numerada abaixo.

6	12			30				54	60
---	----	--	--	----	--	--	--	----	----

5	10	15					40		50
---	----	----	--	--	--	--	----	--	----

3	6			15		21			30
---	---	--	--	----	--	----	--	--	----

4) Indique se a igualdade é verdadeira V ou falsa F.

( )  $35 + 35 = 60 + 10$


( )  $25 + 30 = 60 + 40$

( )  $130 + 25 = 120 + 35$

( )  $172 + 10 = 135 + 20$

5) Gabriel come 3 bananas por dia. Quantas bananas ele comerá em uma semana?


Cálculo



Resposta: \_\_\_\_\_

6) Ítalo comprou 6 caixas de biscoitos. Cada caixa contém 5 biscoitos. Se Ítalo comer as 6 caixas, quantos biscoitos ele irá comer?


Cálculo



Resposta: \_\_\_\_\_

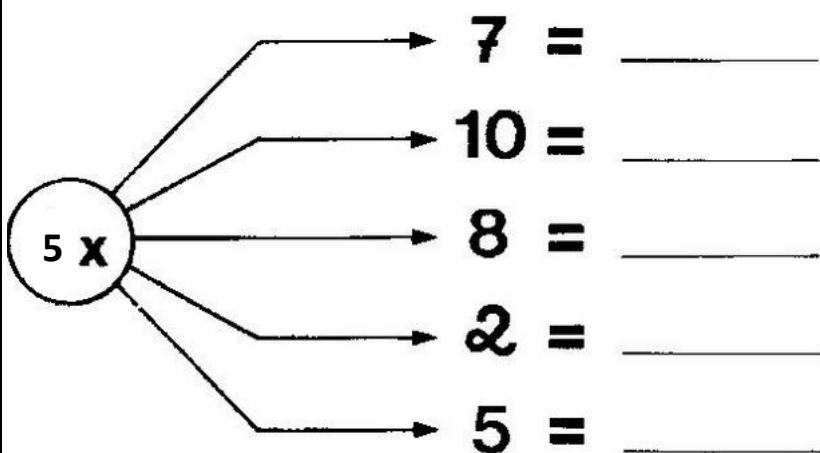
7) Maria Clara comprou 4 pacotes de figurinhas para completar seu álbum. Cada pacote vem com 8 figurinhas. Com quantas figurinhas ela ficou?

Cálculo



Resposta: \_\_\_\_\_

8) Complete o exercício abaixo resolvendo as multiplicações:



Bons estudos!