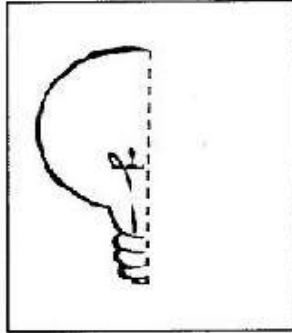
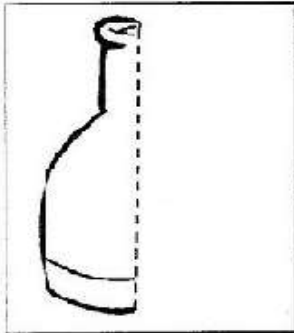


## METADE

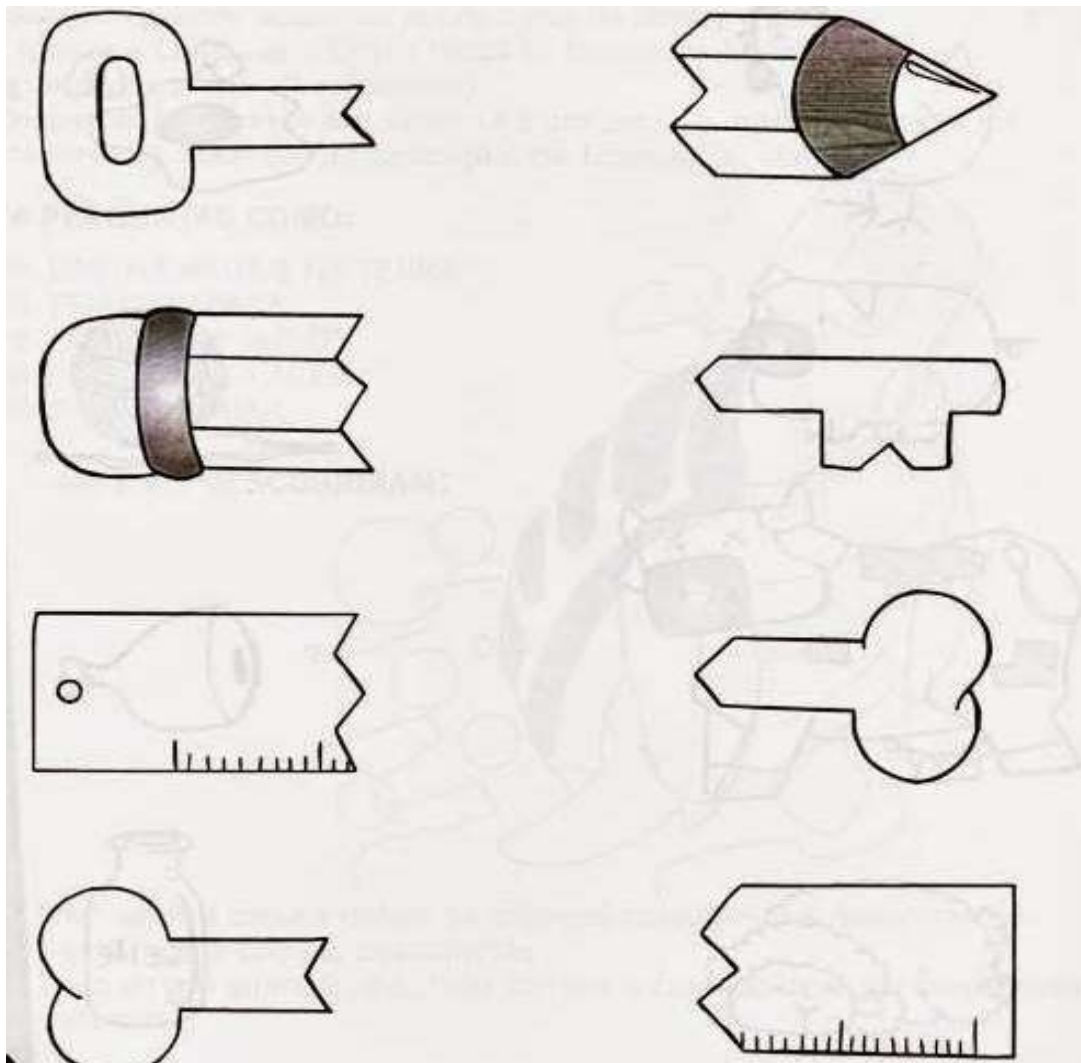
1- Complete as figuras abaixo.



a) Como as figuras estavam?    ( ) Inteiras.            ( ) Pela metade.

b) Depois que você completou, como ficaram?    ( ) Inteiras.            ( ) Pela metade.

2-Ligue as metades e complete os objetos abaixo.

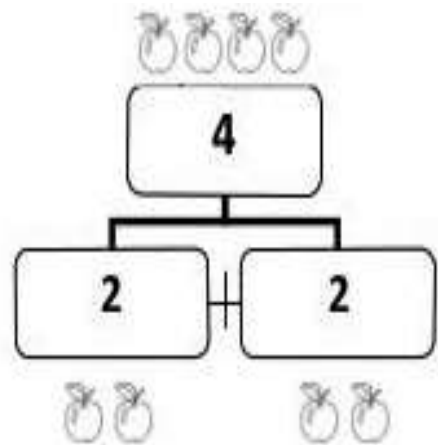


3- Observe a situação problema abaixo.


Eu tenho 2 maçãs. Por isso, tenho metade das maçãs que tu tens.

2 é metade de 4

Beatriz, eu tenho 4 maçãs.




Observa e completa.



Total de maçãs: \_\_\_\_\_

Metade: \_\_\_\_\_




Total de morangos: \_\_\_\_\_

Metade: \_\_\_\_\_

4 – Observe os conjuntos e responda.

a) Quantas estrelas há em cada lado? Eu já comecei!



b) Quantas estrelas há no total?

