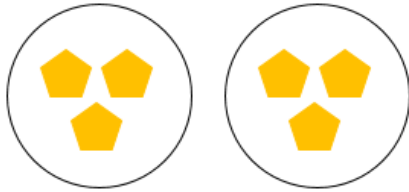


Questão 1 – Complete as adições e as multiplicações para calcular os resultados.




ADIÇÃO:

$$\square + \square = \square$$

TOTAL

MULTIPLICAÇÃO:

$$\square \times \square = \square$$



ADIÇÃO:

$$\square + \square + \square = \square$$

TOTAL

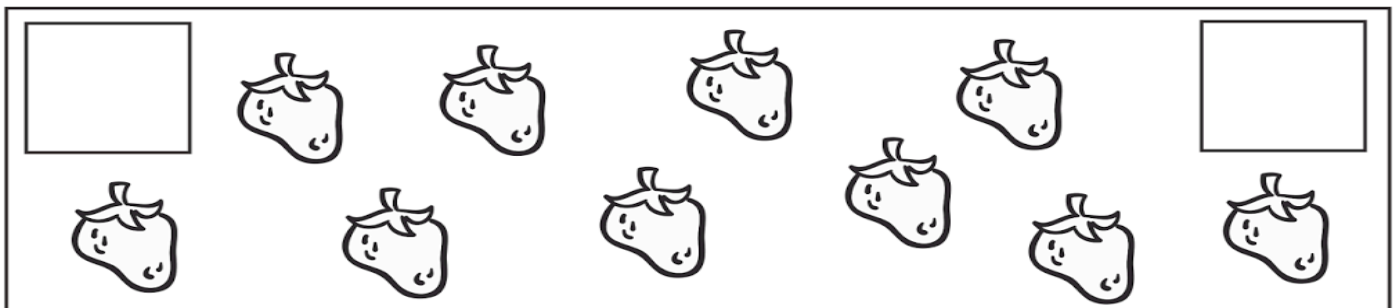
MULTIPLICAÇÃO:

$$\square \times \square = \square$$

Questão 2- Registre o número de figuras no primeiro quadrado, em seguida, pinte a metade das figuras e registre o número no segundo quadrado.

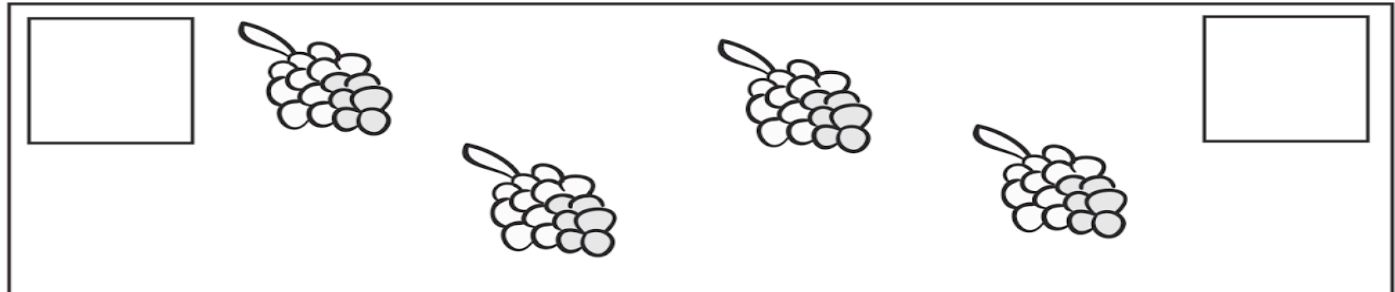
Total

Metade




Total

Metade



Questão 3 – Pinte a metade das figuras e escreva o nome das formas geométricas.



Nome: _____

Questão 4- Resolva os problemas.

a) Tia Thayane leu 245 páginas de um livro. Depois do almoço, ela leu mais 113 páginas do seu livro. Quantas páginas tia Thayane leu ao todo?

Sentença Matemática

Cálculo

Resposta: _____

b) Melina tinha 398 reais e deu 232 reais para sua irmã. Com quantos reais Melina ficou?

Sentença Matemática

Cálculo

Resposta: _____

c) Joaquim resolveu 7 problemas matemáticos e Enzo resolveu o triplo. Quantos problemas Enzo resolveu?

Sentença Matemática

Cálculo

Resposta: _____

d) Carina vendeu 6 ingressos para o teatro e Denise vendeu o quádruplo. Quantos ingressos Denise vendeu?

Sentença Matemática

Cálculo

Resposta: _____