






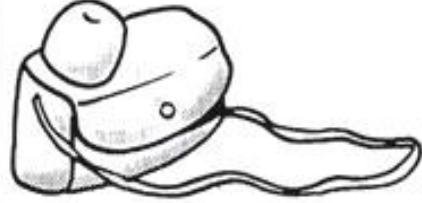
















## SISTEMA MONETÁRIO

Dona Mariquinha está fazendo uma liquidação na sua loja e colocou vários produtos em promoção. Pinte as notas que você precisa para fazer as compras.

 <p><b>R\$ 25,00</b></p>			
			
<p><b>R\$ 15,00</b></p> 			
			
<p><b>R\$ 50,00</b></p> 			
			
<p><b>R\$ 7,00</b></p> 			
			

## ATIVIDADES DE MATEMÁTICA

1) OBSERVE AS NOTAS E LIGUE-AS AO SEU VALOR:



•

• R\$ 10,00



•

• R\$ 20,00



•

• R\$ 50,00



•

• R\$ 5,00



•

• R\$ 100,00



•

• R\$ 2,00

1. Vamos contar com muita atenção para não errar.



Quantos reais? R\$ \_\_\_\_\_



Quantos reais? R\$ \_\_\_\_\_



Quantos reais? R\$ \_\_\_\_\_



Quantos reais? R\$ \_\_\_\_\_



Quantos reais? R\$ \_\_\_\_\_

