





1- Observe a paisagem abaixo e depois marque um (X) apenas no nome dos elementos que podem ser observados nela:



- a) () pôr do sol
- b) () carros
- c) () casa
- d) () árvore

2- Com base na imagem acima, há mais elementos da paisagem natural ou modificada?

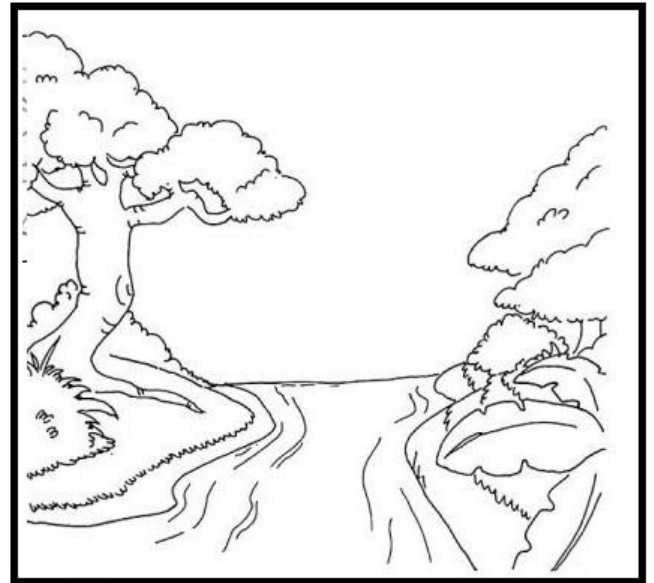

3- Marque um (X) na paisagem que foi transformada pelo homem para construir cidades:



4- Desenhe a paisagem que você observa ao olhar de sua janela.



1- Pinte a paisagem natural.



2- Quando observamos a segunda imagem, o que poderia ser construído para atravessarmos de um lado para o outro?

3- Complete a frase abaixo de acordo com o exercício anterior:

• Depois dessa construção, logo, ela passaria a ser uma paisagem _____.

4- O que faz parte da paisagem do lugar onde você mora? Pinte os quadradinhos.

lojas

ruas

ponte

estrada

túnel

rio

edifícios

montanha

animais

árvores

casas

praça

PAISAGEM NATURAL = PAISAGEM MODIFICADA

Encontre no quadro abaixo algumas características de paisagem natural e paisagem modificada.

M D P O N T E S G M N J F Q
O H O N Q S T B D H D H L Y
N V B R P W K J H L B M O X
T Û N E I S L V M L H B R K
A T B X H E T F G N W N E C
N N S P G R W L K T N F S W
H R G J R I P M H D N R T D
A D B R U A W Y P S G V A M



Paisagem natural: é constituída pela água, pelo solo, pelo ar e outros elementos do meio ambiente.

Paisagem modificada: é a paisagem natural modificada pelo homem.