
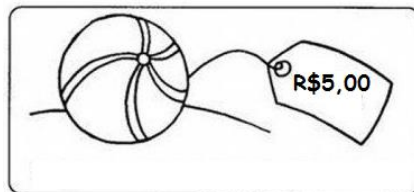





1- Cascão vai ao shopping comprar uma bola que custa R\$5,00. Pinte a cédula que representa o valor exato que Cascão precisará levar para comprar a bola.



2- Hugo e Paula são amigos e estão indo tomar sorvete na praça. Circule a criança que tem o maior valor de dinheiro.



Hugo



Paula