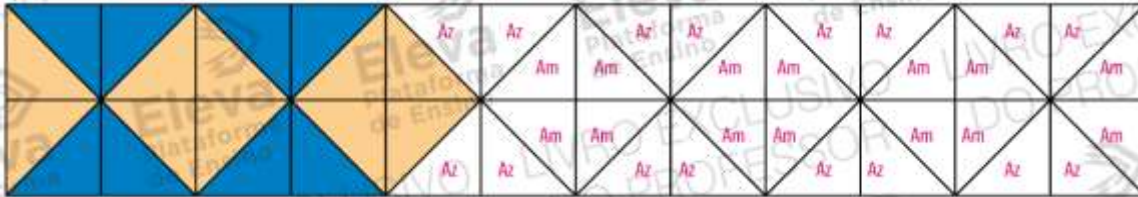



Página 191

02)



Página 191

03 e 04)



05) Possuem 4 vértices.

Página 192

01) Nina está correta.

02) Contando os quadradinhos e observando a altura e a largura das figuras apresentadas.

03) Sim. 20 quadradinhos.

Página 193

04) Resposta pessoal.

05) a) Desenhar o mesmo número e tamanho de lados.

b) Sim. Colocando-as na mesma posição.

Página 194

01) Triângulo

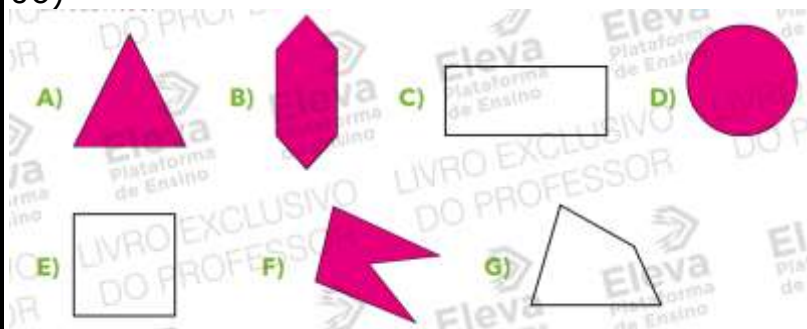
Página 195

01) a) $4 \times 6 = 24$

b) $5 \times 8 = 40$

Página 198

06)

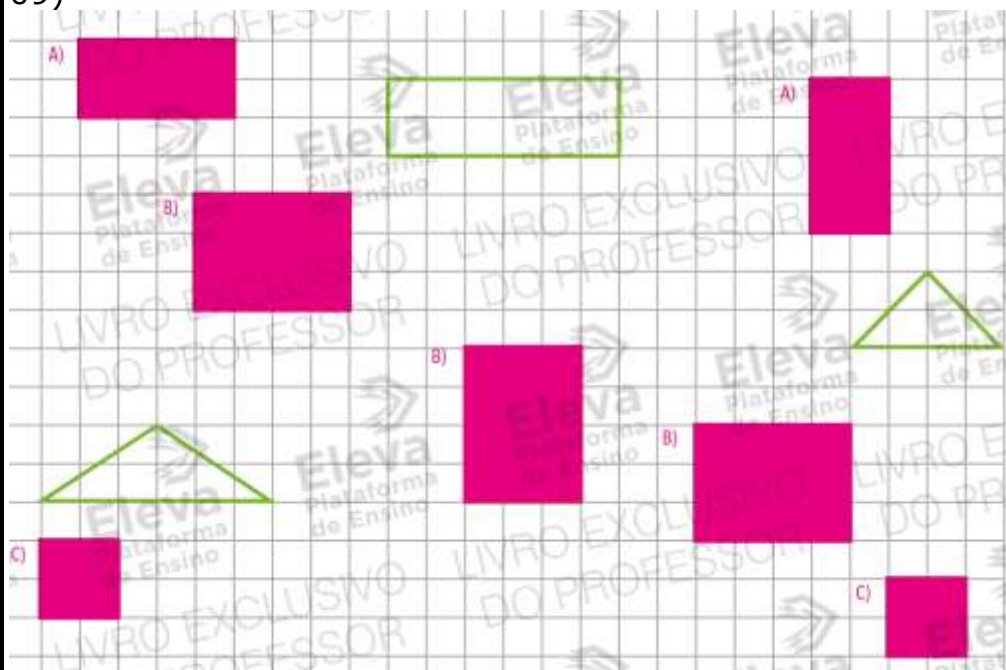


07) (x) 3×8


08) (x) 4 fios e 20 contas

Página 199

09)



10) a)



b) Quadrados e triângulos

c) (x) 16

d) $4 \times 4 = 16$